

**PREFEITURA MUNICIPAL DE
COMENDADOR LEVY GASPARIAN/RJ**
Concurso Público - Edital 001/2020

CARGO: GUARDA MUNICIPAL


Caro(a) Candidato(a): **Antes de iniciar a prova leia atentamente as instruções a seguir:**

1. Este caderno contém 60 (sessenta) questões objetivas com 04 (quatro) opções (A, B, C, D). A prova terá duração máxima de 03 (três) horas. A prova terá seu horário de início em sala, a contar após a distribuição dos cadernos de prova e autorização do aplicador(a).
2. Confira em seu caderno de provas a sequência de questões. Você tem até 10 (dez) minutos do início das provas para solicitar a troca do caderno de provas que apresentar algum problema de impressão ou qualquer outro que inviabilize a realização da mesma, pois não serão aceitas reclamações posteriores nesse sentido.
3. A interpretação das questões, bem como das instruções, faz parte da prova. Portanto, ao aplicador(a) de sala e fiscais não há autorização para fornecer esclarecimentos sobre o conteúdo das provas, sendo esta atribuição de única e exclusiva responsabilidade do(a) candidato(a).
4. Você receberá do aplicador o cartão de respostas 30 (trinta) minutos após o início da prova, o cartão de respostas deverá obrigatoriamente ser assinado pelo(a) candidato(a) no local em que há a indicação: “**ASSINATURA**”, utilizando sempre caneta esferográfica de tinta preta ou azul.
5. Caso realmente precise, utilize como rascunho os espaços em branco nas folhas do caderno de prova. Sugerimos que você assinale, inicialmente, no próprio caderno de provas, todas as respostas que julgar correta. Depois, passe-as para o cartão de respostas.
6. Questões com mais de uma alternativa assinalada, rasurada ou em branco serão **ANULADAS**. Portanto, ao preencher o cartão de respostas faça-o cuidadosamente. Evite erros, pois em hipótese alguma haverá substituição do cartão de respostas por erro do(a) candidato(a).
7. Ao terminar a prova ou findo o horário limite para sua realização, o candidato deverá **OBRIGATORIAMENTE** entregar seu cartão de respostas “**ASSINADO**”, ao aplicador(a) de sala. O(a) candidato(a) que não devolver seu cartão de respostas será automaticamente **eliminado(a)** e não terá classificação alguma no concurso público.
8. **Atenção!** Preencha o cartão-resposta na mesma sequência numérica das questões do caderno de provas.
9. Somente será permitido levar o caderno de questões (prova), depois de decorrido o período de **120 (cento e vinte) minutos do início das provas.**
10. Não serão permitidas consultas a quaisquer materiais, uso de telefone celular ou outros aparelhos eletrônicos, assim como os demais procedimentos constantes no subitem 9.9 e no subitem 9.11 do Edital 001/2020.
11. Após o término da prova, o(a) candidato(a) deverá deixar imediatamente o recinto da mesma, sendo **terminantemente proibido** fazer contato com os(as) candidatos(as) que ainda não terminaram a prova sob pena de ser excluído do Concurso Público.
12. O desrespeito às normas que regem o presente concurso, bem como, a desobediência às exigências registradas no edital, além de sanções legais cabíveis implica na desclassificação do candidato.
13. Os dois últimos candidatos ao terminarem as provas deverão retirar-se da sala simultaneamente, após testemunharem o fechamento (lacre) do envelope de provas, assinando a Ata Relatório.
14. O candidato, após a divulgação dos gabaritos preliminares da Prova Objetiva que será feita no site www.qualimp.com.br, na data prevista no QUADRO I – CRONOGRAMA GERAL DE DATAS E EVENTOS constante no Edital 001/2020, poderá peticionar **RECURSO** à banca examinadora, quando julgar que ocorreu erro na formulação das questões e divulgação do gabarito preliminar.

BOA PROVA!!!

ATENÇÃO!!!

- O CARTÃO DE RESPOSTAS ABAIXO É PARA SER UTILIZADO SOMENTE COMO **RASCUNHO**.
- AO RECEBER O CARTÃO DE RESPOSTAS **DEFINITIVO** CONFIRA OS DADOS DE IDENTIFICAÇÃO (NOME, CARGO, NÚMERO DE INSCRIÇÃO) E EM SEGUIDA ASSINE NO LOCAL INDICADO.

CARTÃO RESPOSTA					
PREFEITURA MUNICIPAL DE COMENDADOR LEVY GASPARIAN - RJ CONCURSO PÚBLICO 001/2020					
Nome:		Local:			
Cargo:		Data:			
Sala:		Nº de inscrição:		Turno:	
<ul style="list-style-type: none"> * Marcar apenas uma opção para cada questão, evitando ultrapassar o círculo; * O círculo correspondente à questão escolhida deve ser totalmente preenchido; * Marcar apenas a quantidade de questões existentes na sua prova; * Utilize somente caneta azul ou preta, não rasurar ou sujar o cartão; 					TIPO DE PROVA PACRÃO
<div style="display: flex; flex-wrap: wrap;"> <div style="width: 33%;"> <p>01 (A) (B) (C) (D)</p><p>02 (A) (B) (C) (D)</p><p>03 (A) (B) (C) (D)</p><p>04 (A) (B) (C) (D)</p><p>05 (A) (B) (C) (D)</p><p>06 (A) (B) (C) (D)</p><p>07 (A) (B) (C) (D)</p><p>08 (A) (B) (C) (D)</p><p>09 (A) (B) (C) (D)</p><p>10 (A) (B) (C) (D)</p><p>11 (A) (B) (C) (D)</p><p>12 (A) (B) (C) (D)</p><p>13 (A) (B) (C) (D)</p><p>14 (A) (B) (C) (D)</p><p>15 (A) (B) (C) (D)</p><p>16 (A) (B) (C) (D)</p><p>17 (A) (B) (C) (D)</p><p>18 (A) (B) (C) (D)</p><p>19 (A) (B) (C) (D)</p><p>20 (A) (B) (C) (D)</p> </div> <div style="width: 33%;"> <p>21 (A) (B) (C) (D)</p><p>22 (A) (B) (C) (D)</p><p>23 (A) (B) (C) (D)</p><p>24 (A) (B) (C) (D)</p><p>25 (A) (B) (C) (D)</p><p>26 (A) (B) (C) (D)</p><p>27 (A) (B) (C) (D)</p><p>28 (A) (B) (C) (D)</p><p>29 (A) (B) (C) (D)</p><p>30 (A) (B) (C) (D)</p><p>31 (A) (B) (C) (D)</p><p>32 (A) (B) (C) (D)</p><p>33 (A) (B) (C) (D)</p><p>34 (A) (B) (C) (D)</p><p>35 (A) (B) (C) (D)</p><p>36 (A) (B) (C) (D)</p><p>37 (A) (B) (C) (D)</p><p>38 (A) (B) (C) (D)</p><p>39 (A) (B) (C) (D)</p><p>40 (A) (B) (C) (D)</p> </div> <div style="width: 33%;"> <p>41 (A) (B) (C) (D)</p><p>42 (A) (B) (C) (D)</p><p>43 (A) (B) (C) (D)</p><p>44 (A) (B) (C) (D)</p><p>45 (A) (B) (C) (D)</p><p>46 (A) (B) (C) (D)</p><p>47 (A) (B) (C) (D)</p><p>48 (A) (B) (C) (D)</p><p>49 (A) (B) (C) (D)</p><p>50 (A) (B) (C) (D)</p><p>51 (A) (B) (C) (D)</p><p>52 (A) (B) (C) (D)</p><p>53 (A) (B) (C) (D)</p><p>54 (A) (B) (C) (D)</p><p>55 (A) (B) (C) (D)</p><p>56 (A) (B) (C) (D)</p><p>57 (A) (B) (C) (D)</p><p>58 (A) (B) (C) (D)</p><p>59 (A) (B) (C) (D)</p><p>60 (A) (B) (C) (D)</p> </div> </div>					
<div style="border-top: 1px solid black; width: 100%;"></div> Assinatura do Candidato					Nº DE INSCRIÇÃO

OBS.: O candidato deverá OBRIGATORIAMENTE, entregar seu cartão de repostas definitivo preenchido e ASSINADO, sob pena de ter seu cartão de respostas ANULADO.
(item 9.14 do edital 001/2020)

QUESTÕES DE LÍNGUA PORTUGUESA

Leia o texto com atenção e responda as questões de 01 a 04.

A massacrante felicidade dos outros

Há no ar um certo queixume sem razões muito claras. Converso com pessoas que estão na meia-idade, todas com profissão, família e saúde, e ainda assim elas trazem dentro delas um não-sei-o-que perturbador, algo que as incomoda, mesmo estando tudo bem. De onde vem isso?

Anos atrás, a cantora Marina Lima compôs com o seu irmão, o poeta Antônio Cícero, uma música que dizia: "Eu espero/acontecimento/só que quando anoitece/é festa no outro apartamento". Passei minha adolescência com esta sensação: a de que algo muito animado estava acontecendo em algum lugar para o qual eu não tinha sido convidada. É uma das características da juventude: considerar-se deslocado e impedido de ser feliz como os outros são – ou aparentam ser. Só que chega uma hora em que é preciso deixar de ficar tão ligada na grama do vizinho.

As "festas em outros apartamentos" são fruto da nossa imaginação, que é infectada por falsos holofotes, falsos sorrisos e falsas notícias. Os notáveis alardeiam muito suas vitórias, mas falam pouco das suas angústias, relevam pouco suas aflições, não dão bandeira das suas fraquezas, então fica parecendo que todos estão comemorando grandes paixões e fortunas, quando na verdade a festa lá fora não está tão animada assim.

Ao amadurecer, descobrimos que a grama do vizinho não é mais verde coisíssima nenhuma. Estamos todos no mesmo barco, com motivos para dançar pela sala e também motivos para se refugiar no escuro, alternadamente. Só que os motivos para se refugiar no escuro raramente são divulgados. Para consumo externo, todos são belos, sexys, lúcidos, íntegros, ricos, sedutores. *"Nunca conheci quem tivesse levado porrada/todos os meus conhecidos têm sido campeões em tudo"*. Fernando Pessoa também já se sentiu abafado pela perfeição alheia, e olha que na época em que ele escreveu esses versos não havia essa overdose de revistas que há hoje, vendendo um mundo de faz-de-conta.

Nesta era de exaltação de celebridades – reais e inventadas – fica difícil mesmo achar que a vida da gente tem graça. Mas tem. Paz interior, amigos leais, nossas músicas, livros, fantasias, decepções e recomeços, tudo isso vale a pena ser incluído na nossa biografia. Ou será tão divertido passar dois dias na ilha de Caras fotografando junto a todos os produtos dos patrocinadores? Compensa passar a vida comendo alface para ter o corpo que a profissão de modelo exige? Será tão gratificante ter um paparazzi na sua cola cada vez que você sai de casa? Estarão mesmo todos realizando um milhão de coisas interessantes enquanto só você está sentada no sofá pintando as unhas do pé?

Favor não confundir uma vida sensacional com uma vida sensacionalista. As melhores festas costumam acontecer dentro do nosso próprio apartamento.

(MEDEIROS, Martha. *A massacrante felicidade dos outros*. In: *Coisas da vida*. Páginas 185 e 186. Porto Alegre, RS: L&PM, 2010)

01. Leia este fragmento do texto:

"Nunca conheci quem tivesse levado porrada/todos os meus conhecidos têm sido campeões em tudo".
"Fernando Pessoa também já se sentiu abafado pela perfeição alheia..."

Analise as afirmativas a seguir, em seguida, marque a alternativa CORRETA, de acordo com o fragmento:

- I. A autora utiliza a citação, pois há a reprodução de parte do texto fonte, ou seja, uma transcrição das palavras do autor mencionado.
- II. Foi utilizado o acento circunflexo, na forma verbal "têm", pois o verbo se refere à expressão "os meus conhecidos", que está flexionada no plural.
- III. A palavra nunca pode ser classificada como um adjetivo.
- IV. A forma verbal "tivesse" está no modo indicativo, no tempo pretérito mais-que-perfeito.

- (A) Apenas a I está correta.
(B) III e IV estão corretas.
(C) I e II estão corretas.
(D) Apenas a IV está correta.

02. Analise as afirmativas a seguir:

- I. As tipologias presentes no texto são a narrativa e a argumentativa.
- II. O tipo de linguagem do texto permite entender que se refere ao público infantil.
- III. Há duas referências a outros textos já existentes, o que chamamos de intertextualidade.
- IV. O gênero textual predominante é o conto, pois possui personagens, espaço e tempo.

De acordo com o texto, estão **INCORRETAS** apenas as alternativas:

- (A) I e II. (B) I e IV. (C) II e III. (D) II e IV.

03. O texto lido foi estruturado a partir das características do seguinte gênero:

- (A) Conto, pois é uma narrativa breve e concisa, contém só um conflito e poucos personagens.
(B) Crônica, pois narra fatos do cotidiano para desenvolver os argumentos e reflexões.
(C) Notícia, porque o principal objetivo é informar o leitor sobre algum acontecimento importante.
(D) Editorial, pois se trata de um ponto de vista de uma equipe de jornal ou revista.

04. Leia este período do texto: "Os notáveis alardeiam muito suas vitórias, mas falam pouco das suas angústias". Marque a alternativa que expressa o valor semântico da conjunção em destaque:

- (A) Oposição. (B) Explicação. (C) Adição. (D) Alternância.

Leia a tirinha abaixo para responder às questões 05 e 06.



Fonte: <https://vitrinecatarina.wordpress.com/2013/11/12/tirinhas-do-armandinho/>

05. O primeiro período do primeiro quadrinho, iniciando em "quando você crescer..." apresenta uma ideia de:

- (A) Concessão.
(B) Conformidade.
(C) Condição.
(D) Tempo.

06. No segundo quadrinho, na frase "Espero que sim", há oração subordinada substantiva:

- (A) Objetiva indireta.
(B) Completiva nominal.
(C) Objetiva direta.
(D) Predicativa.

Leia a tirinha de Calvin para responder às questões 07 e 08.



07. Sobre a colocação pronominal, marque a opção **CORRETA** em relação à tirinha:

- (A) No segundo quadrinho, na frase "O que se diz" ocorreu uma mesóclise.
- (B) No quarto quadrinho, na frase "Me desculpe" ocorreu uma próclise, mas, segundo a norma culta, o correto é utilizar a ênclise, da seguinte forma: "Desculpe-me".
- (C) No quarto quadrinho, na frase "Me desculpe" ocorreu uma ênclise, mas, segundo a norma culta, o correto é utilizar a mesóclise, da seguinte forma: "Desculpar-me-ei".
- (D) No quarto quadrinho, na frase "Me desculpe" ocorreu uma mesóclise, mas, segundo a norma culta, o correto é utilizar a ênclise, da seguinte forma: "Desculpe-me".

08. No primeiro quadrinho, ocorre uma figura de linguagem, representada pela palavra com letras maiores. Marque a alternativa com a resposta **CORRETA**:

- (A) Metonímia.
- (B) Comparação.
- (C) Zeugma.
- (D) Onomatopeia.

Leia a campanha abaixo para responder às questões 09 e 10.



Fonte: <http://www.aen.pr.gov.br/modules/noticias/article.php?storyid=101930&tit=Saude-lanca-campanha-digital-sobre-medidas-de-combate-a-dengue>.
Imagem Adaptada.

09. Marque a opção que identifique a função de linguagem predominante na campanha:

- (A) Função Apelativa. (B) Função Emotiva. (C) Função Fática. (D) Função Poética.

10. Marque a opção que identifique o elemento da comunicação predominante e as características da campanha lida:

- (A) Elemento de comunicação: emissor. O texto é emotivo, possui sentimentos, narrado em 1ª pessoa.
(B) Elemento de comunicação: receptor. O texto é de cunho apelativo, utiliza verbos no imperativo para alertar a população do perigo da dengue.
(C) Elemento de comunicação: receptor. O texto é de cunho apelativo, utiliza verbos imperativo para orientar a população dos cuidados que precisa de ter em lagos, cascatas e espelhos de água decorativos, contra o mosquito que transmite a dengue.
(D) Elemento de comunicação: receptor. O texto é de cunho emotivo, utilizado verbos no imperativo para expressar uma ordem.

Leia a imagem abaixo para responder às questões 11 e 12.



Fonte: <https://i.pinimg.com/originals/5e/ae/cd/5eaeedb282cac24e74124a478d39d541.jpg>

11. Marque a opção que tenha a figura de linguagem CORRETA, presente na imagem acima, com a devida explicação:

- (A) Metonímia, pois compara o amor e o apego.
(B) Personificação, pois atribui características humanas às palavras "apego" e "amor", seres que não são humanos.
(C) Eufemismo, pois os períodos da imagem suavizam uma mensagem rude.
(D) Metáfora, pois há uma comparação entre amor e apego.

12. Leia a frase: "O apego é o oposto do amor". Marque a opção que indique a função sintática CORRETA da expressão em destaque.

- (A) Complemento nominal.
(B) Aposto.
(C) Adjunto adnominal.
(D) Predicativo do sujeito.

Leia a charge abaixo para responder à questão 13.



Fonte: <http://saladelinguaportuguesablog.blogspot.com/2015/09/exercicios-sobre-regencia-verbal-com.html>

13. Na charge acima, há um erro de regência verbal, marque a opção **CORRETA** referente a este assunto:

- (A) A forma verbal “estou” não deveria ter o complemento “com sorte”, pois é verbo de ligação.
- (B) A expressão “em casa” não deveria utilizar a preposição “em”, pois o verbo chegar, neste caso, exige a preposição “a”. Portanto, o correto seria: “chegar a casa”.
- (C) Analisando a linguagem verbal e não verbal, a expressão “em casa” não deveria utilizar a preposição “em”, pois o verbo chegar, neste caso, exige a preposição “de”. Portanto, o correto seria: “chegar de casa”.
- (D) A forma verbal “estou” deveria ter o complemento “com sorte”, pois é verbo de ligação.

Leia a notícia abaixo para responder à questão 14.

Casal adota recém-nascida e ganha surpresa de passageiros ao voar de volta para casa

Por G1

Um casal, nos Estados Unidos, que voava com seu bebê adotado, recebeu uma emocionante surpresa dos outros passageiros, organizada pelos comissários de bordo.

A viagem aconteceu em novembro, quando a criança tinha apenas oito dias de vida, mas só agora foi relatada pelo pai, Dustin Moore.

Segundo ele, tudo começou quando uma comissária chamada Jenny e uma passageira elogiaram sua filha e perguntaram porque eles viajavam com uma criança tão nova. Ele e a mulher, Caren, contaram então que estavam levando a bebê – cujo nome preferiu não divulgar – para casa pela primeira vez após a adoção.

Pouco depois, outro comissário, Bobby, foi até eles e fez mais perguntas sobre a criança. Confusos, eles só entenderam o motivo do interesse quando ouviram a voz de Bobby no comunicador.

O comissário anunciou para todos que havia uma “passageira muito especial” a bordo, com apenas oito dias de vida. Todos na cabine aplaudiram e comemoraram, e Bobby e Jenny começaram a distribuir papéis e canetas para quem quisesse enviar mensagens à família Moore, também lidas no comunicador.

“Sempre digam a ela que a amam”; “Aproveitem cada minuto. Tudo passa tão rápido!” e “Eu também fui adotada. Obrigada por dar a essa criança uma família amorosa” foram alguns dos recados que os pais e o bebê receberam dos passageiros.

Ao todo, foram 60 mensagens, que a mãe de Dustin colou com cuidado em um álbum que será guardado junto com as demais lembranças de infância da neta.

Os comissários explicaram depois aos Moore que são casados, e que uma colega havia feito algo parecido com eles em sua lua-de-mel.

“Um grupo inteiro de estranhos se unir assim, compartilhar dessa maneira, demonstrar esse tipo de amor e bondade conosco, isso significou tudo para nós”, comentou emocionado Dustin, ao relatar o caso.

Ele e a mulher tentavam ter filhos há nove anos, e, após tratamentos, que não foram bem-sucedidos, decidiram adotar uma criança. Eles tinham ido até Colorado acompanhar o nascimento da filha, e no dia do voo estavam voltando para casa, na Califórnia.

Fonte: <https://g1.globo.com/olha-que-legal/noticia/2020/02/13/casal-adota-recem-nascida-e-ganha-surpresa-de-passageiros-ao-voar-de-volta-para-casa.ghtml>

14. Leia a seguinte frase do texto: "Um casal, nos Estados Unidos, que voava com seu bebê adotado, recebeu uma emocionante surpresa dos outros passageiros". A oração em destaque se trata de uma

- (A) Oração subordinada substantiva completiva nominal.
- (B) Oração subordinada adjetiva restritiva.
- (C) Oração subordinada substantiva objetiva direta.
- (D) Oração subordinada adjetiva explicativa.

15. Na frase abaixo, qual palavra exerce a função de advérbio:

"Ele gosta bastante dela."

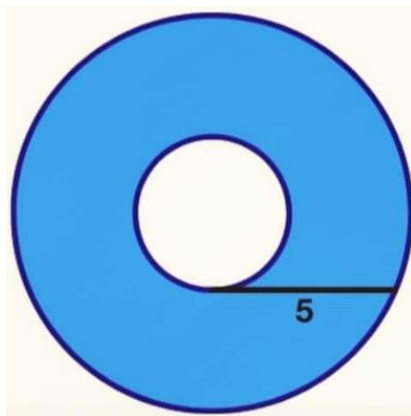
- (A) Ele.
- (B) Gosta.
- (C) Bastante.
- (D) Dela.

QUESTÕES DE MATEMÁTICA

16. Cézar escreveu um número par de 5 algarismos. Depois calculou soma desses algarismos e o resultado deu 49. O algarismo das unidades do número escrito por Cézar é?

- (A) 8.
- (B) 0.
- (C) 4.
- (D) 2.

17. A figura abaixo mostra duas circunferências concêntricas. Um segmento de tamanho 5 cm toca a circunferência maior internamente e tangencia a circunferência menor.



Qual a área da coroa circular formada pelas duas circunferências?

- (A) $16\pi \text{ cm}^2$.
- (B) $25\pi \text{ cm}^2$.
- (C) $15\pi \text{ cm}^2$.
- (D) $20\pi \text{ cm}^2$.

18. Eliane comprou balas para suas sobrinhas: Ana, Beatriz, Clara e Diana. Ana foi a que mais ganhou balas. Beatriz e Clara ganharam, juntas, 39 balas. Ninguém ficou sem ganhar bala. Beatriz ganhou mais balas do que Clara. Quantas balas Clara ganhou?

- (A) 21.
- (B) 20.
- (C) 22.
- (D) 19.

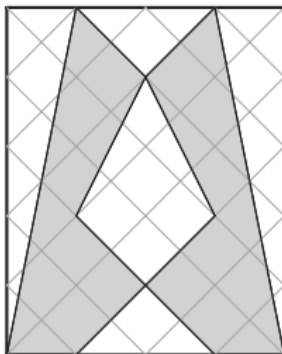
19. Um professor escreveu as letras A, B, C, D e E no quadro e disse para os alunos que cada letra representava um número diferente, dentre os valores 1, 2, 3, 4 e 5 (não necessariamente nessa ordem). Depois fez as seguintes afirmações:

$$A + B + D = 6 \quad \text{e} \quad A + E = 8$$

Qual é o valor da letra C?

- (A) 2. (B) 3. (C) 4. (D) 5.

20. A figura abaixo foi desenhada sobre um papel quadriculado, com medidas 8 x 10 cm.



A região hachurada de cinza representa que porcentagem da figura total?

- (A) 50%. (B) 60%. (C) 40%. (D) 75%.

21. Observe a tabela abaixo.

2	4	6	8	10	12	14	16	18	1980
5	7	9	11	13	15	17	19	21	X

A soma dos valores inseridos na primeira linha tem o mesmo valor que a soma dos valores inseridos na segunda linha. Para que essa condição seja satisfeita, qual deve ser o valor de X na segunda linha?

- (A) 1 983. (B) 1 947. (C) 1 977. (D) 1 953.

22. Sobre a equação $x^2 - 18x - 32 = 0$ podemos afirmar que:

- (A) A soma dos inversos das suas raízes é $\frac{9}{16}$.
 (B) É crescente no intervalo $[5, 8]$.
 (C) A soma dos inversos das suas raízes é $-\frac{9}{16}$.
 (D) É decrescente no intervalo $[10, 13]$.

23. Uma matriz 3x3 com seus elementos definidos por $a_{ij} = 3i + 4j$. O elemento a_{23} é:

- (A) 12. (B) 14. (C) 16. (D) 18.

24. Determine o valor da terça parte de 20% de 30% de 900.

- (A) 27. (B) 18. (C) 09. (D) 06.

25. Analise as afirmações abaixo:

- I. A soma de três números naturais consecutivos é um número par.
- II. A soma de três números naturais consecutivos é um número primo.
- III. A soma de três números naturais consecutivos é um número ímpar.
- IV. A soma de três números naturais consecutivos é um número múltiplo de três.

Sobre as afirmações acima, podemos afirmar que:

- (A) Estão corretas as afirmações I e IV.
- (B) Estão corretas as afirmações II e III.
- (C) Apenas a afirmação I está correta.
- (D) Apenas a afirmação IV está correta.

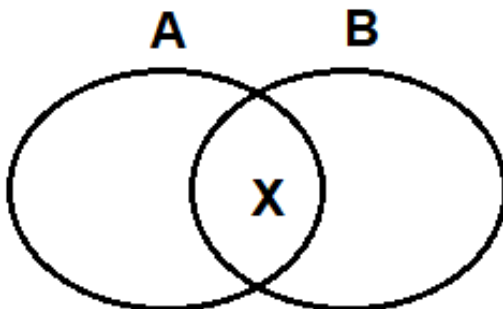
26. O conjunto verdade da seguinte equação: $x^2 - 5x - 6 = 0$, é:

- (A) $\{-1, 6\}$.
- (B) $\{5, -6\}$.
- (C) $\{6, -11\}$.
- (D) $\{1, -11\}$.

27. Observe a seguinte sequência: $\{12; zy; 34; xw; 56; ts; \dots\}$ o nono elemento da sequência será:

- (A) Rq.
- (B) 78.
- (C) 910.
- (D) Po.

28. Observe o diagrama abaixo:



O total de elementos no universo desses dois conjuntos é 120. Todos os elementos pertencem a A ou B ou ambos. Se A tem 79 elementos e B tem 53 elementos, quanto vale x?

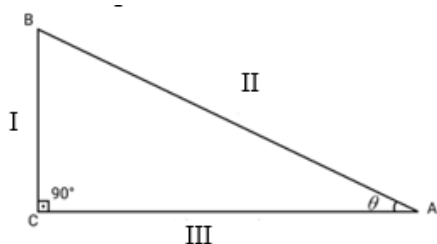
- (A) 18.
- (B) 16.
- (C) 14.
- (D) 12.

29. Dada a matriz M a seguir, obtenha a matriz transposta M^t e assinale a alternativa CORRETA.

$$M = \begin{pmatrix} 2 & 5 \\ -1 & 3 \end{pmatrix}$$

- (A) $\begin{pmatrix} 1 & 0 \\ 0 & 1 \end{pmatrix}$.
- (B) $\begin{pmatrix} 2 & -1 \\ 5 & 3 \end{pmatrix}$.
- (C) $\begin{pmatrix} -2 & 1 \\ -5 & -3 \end{pmatrix}$.
- (D) $\begin{pmatrix} -2 & -3 \\ 5 & 2 \end{pmatrix}$.

30. Analise a figura abaixo:



Com base na figura assinala V para as afirmativas verdadeiras e F para as falsas:

- ☐ O lado I representa o Cateto Oposto.
- ☐ O lado II representa o Cateto Adjacente.
- ☐ O lado III representa o Cateto Adjacente.
- ☐ O lado II representa a Hipotenusa.
- ☐ O lado I representa a Hipotenusa.

A sequência CORRETA podemos identificar na alternativa:

- (A) V, V, F, V, F. (B) F, F, V, F, V. (C) V, F, V, V, F. (D) F, V, F, F, V.

QUESTÕES NOÇÕES BÁSICAS DE INFORMÁTICA

31. A imagem abaixo mostra as características de um texto selecionado no MS Office Word 2010.



Sobre esse texto, podemos afirmar que:

- (A) O texto está em itálico, com tamanho 10, centralizado.
- (B) O texto está com tamanho 10, fonte arial, escrito em itálico alinhado à direita.
- (C) O texto utilizou a fonte arial, tamanho 10, alinhado à esquerda em itálico.
- (D) O texto está em itálico, com tamanho 10 e justificado.

32. Pra inserir uma animação em um documento do MS Office PowerPoint 2010, devemos:

- (A) Acessar a guia "Animações" e clicar em "Adicionar Animação".
- (B) Acessar a guia "Inserir" e clicar em "Animações".
- (C) Acessar a guia "Transições" e clicar em "Animações".
- (D) Clicar no ícone "Adicionar Animação" presente na guia "Página Inicial".

33. Uma forma de inserir uma fórmula de estatística em uma célula do MS Office Excel 2010 é:

- (A) Acessando a guia "Inserir" e depois clicando na opção "Fórmulas", que contém as fórmulas de estatística.
- (B) Acessando a guia "Fórmulas" e depois em "Mais funções", que contém as opções de fórmulas de estatística.
- (C) Acessando a guia "Ferramentas" e depois em "Gerenciar fórmulas", que contém todas as fórmulas disponíveis para serem utilizadas.
- (D) Acessando a guia "Página inicial" que contém um ícone que dá acesso direto para todas as fórmulas disponíveis para serem utilizadas.

34. Em um documento do MS Office Excel 2010, as células A1 e B1 foram preenchidas com os valores conforme a figura abaixo.

	A	B	C
1	2	-4	-2
2			
3			

Qual alternativa apresenta uma possível fórmula que foi inserida na célula C1?

- (A) =SOMA(A1+B1).
- (B) =DIFERENÇA(B1-A1).
- (C) =MENOS(B1-A1).
- (D) =SUBTRAÇÃO(B1-A1).

35. As alternativas abaixo apresentam opções de navegadores na internet, EXCETO:

- (A) Safari.
- (B) Baidu Browser.
- (C) uTorrent.
- (D) Netscape.

36. O MS Office 2010 possui vários programas que o constituem. Dentre eles qual podemos apontar como sendo o mais utilizado para realizar apresentações devido a seus recursos de transições e animações:

- (A) MS Office Excel.
- (B) MS Office Word.
- (C) MS Office Access.
- (D) MS Office PowerPoint.

37. Um professor pediu aos alunos que façam a edição dos textos digitados por seus alunos no software MS Office Word 2010, pedindo para colocar o texto com formatação JUSTIFICADO em todo o texto. Ao selecionar todo o texto, qual tecla de atalho executa tal tarefa:

- (A) Shift + J.
- (B) Ctrl + C.
- (C) Ctrl + J.
- (D) Shift + X.

38. As fórmulas do MS Office Excel, editor de planilhas do pacote MS Office 2010, permitem aos usuários desde funções básicas como fórmulas de porcentagem, soma e subtração, até recursos mais avançados, como localizar dados em planilhas. Qual fórmula é utilizada para verificar se determinadas condições lógicas são verdadeiras, sendo que estes testes incluem conferir qual valor é maior entre duas células ou o resultado da soma de determinadas entradas.

- (A) =CONT.SE().
- (B) =VDD().
- (C) =SIM().
- (D) =SE().

39. Um funcionário da parte administrativa da Prefeitura precisa fazer a edição de um documento elaborado no MS Office Word 2010, que está todo em letras maiúsculas. Ao selecionar todo o texto, o comando de atalho que executa tal tarefa para colocar todo o texto em minúsculo é:

- (A) Shift + F3.
- (B) Ctrl + X.
- (C) Shift + Z.
- (D) Ctrl + Z.

40. O que é necessário para que um usuário possa enviar e receber mensagens de correio eletrônico?

- (A) Uma senha forte.
- (B) Um endereço de e-mail.
- (C) Um computador avançado.
- (D) Um navegador.

QUESTÕES DE CONHECIMENTOS ESPECÍFICOS

41. A Lei nº 13.022/14, determina que incumbe às guardas municipais, instituições de caráter civil, uniformizadas e armadas conforme previsto em lei, a função de proteção municipal preventiva, ressalvadas as competências da União, dos Estados e do Distrito Federal. Sobre as guardas municipais, assinale a alternativa CORRETA de acordo com a referida Lei:

- (A) O exercício das atribuições dos cargos da guarda municipal não requer capacitação específica, com matriz curricular compatível com suas atividades.
- (B) Não é competência geral das guardas municipais a proteção de bens, serviços, logradouros públicos municipais e instalações do Município.
- (C) O Município não pode criar por lei, sua guarda municipal.
- (D) A estrutura hierárquica da guarda municipal não pode utilizar denominação idêntica à das forças militares, quanto aos postos e graduações, títulos, uniformes, distintivos e condecorações.

42. De acordo com a Lei nº 13.022/14, os cargos em comissão das guardas municipais deverão ser providos por membros efetivos do quadro de carreira do órgão ou entidade. João Pedro e Michael estavam em debate sobre a referida Lei, especificamente sobre o porte de arma de fogo aos guardas municipais. João Pedro dizia que aos guardas municipais é autorizado o porte de arma de fogo, conforme previsto em lei. Michael, por outro lado, dizia que aos guardas municipais não é autorizado o porte de arma de fogo, conforme previsto em lei. De acordo com a referida Lei, assinale a alternativa CORRETA:

- (A) João Pedro tem razão.
- (B) Ambos têm razão.
- (C) Ambos estão equivocados.
- (D) Michael tem razão.

43. A Constituição Federal de 1988 dispõe que a segurança pública, dever do Estado, direito e responsabilidade de todos, é exercida para a preservação da ordem pública e da incolumidade das pessoas e do patrimônio, através dos seguintes órgãos: polícia federal; polícia rodoviária federal; polícia ferroviária federal; polícias civis; polícias militares e corpos de bombeiros militares e polícias penais federal, estaduais e distrital. De acordo com o texto constitucional, é certo dizer que as polícias militares e os corpos de bombeiros militares, forças auxiliares e reserva do Exército:

- (A) Não se subordinam juntamente com as polícias civis e as polícias penais estaduais e distrital, aos Governadores dos Estados, do Distrito Federal e dos Territórios.
- (B) Subordinam-se, juntamente com as polícias civis e as polícias penais estaduais e distrital, aos Governadores dos Estados, do Distrito Federal e dos Territórios.
- (C) Subordinam-se, juntamente com as polícias civis e as polícias penais estaduais e distrital, aos Prefeitos dos Municípios.
- (D) Subordinam-se aos Prefeitos dos Municípios, diferentemente das polícias civis e penais que se subordinam aos Governadores dos Estados, do Distrito Federal e dos Territórios.

44. A Lei nº 8.069/1990 determina que a venda de produtos cujos componentes possam causar dependência física ou psíquica ainda que por utilização indevida à criança ou ao adolescente é:

- (A) Obrigatória. (B) Permitida. (C) Proibida. (D) Incentivada.

45. Leia o trecho a seguir, extraído da Lei nº 8.069/1990 e assinale ao que segue:

"Nenhuma criança ou adolescente menor de _____ anos poderá viajar para fora da comarca onde reside desacompanhado dos pais ou dos responsáveis sem expressa autorização judicial."

Assinale a alternativa que preenche a lacuna do trecho:

- (A) 16 (dezesesseis). (B) 14 (catorze). (C) 13 (treze). (D) 17 (dezesete).

46. A Lei nº 10.826/03 dispõe sobre registro, posse e comercialização de armas de fogo e munição, sobre o Sistema Nacional de Armas – SINARM, define crimes e dá outras providências. De acordo com a referida Lei, a empresa que comercializa armas de fogo, acessórios e munições:

- (A) Não responde legalmente por essas mercadorias, ficando registradas como de sua propriedade enquanto não forem vendidas.
(B) Responde legalmente por essas mercadorias, ficando registradas como de sua propriedade enquanto não forem vendidas.
(C) Responde legalmente por essas mercadorias, não ficando registradas como de sua propriedade enquanto não forem vendidas.
(D) Não responde legalmente por essas mercadorias, não ficando registradas como de sua propriedade enquanto não forem vendidas.

47. Leia o trecho a seguir, extraído da Lei nº 8.069/90 e assinale ao que segue:

"As entidades que mantenham programa de acolhimento institucional poderão, em caráter excepcional e de urgência, acolher crianças e adolescentes sem prévia determinação da autoridade competente, fazendo comunicação do fato em até _____ horas ao Juiz da Infância e da Juventude, sob pena de responsabilidade".

Assinale a alternativa que preenche CORRETAMENTE a lacuna do trecho:

- (A) 24 (vinte e quatro).
(B) 36 (trinta e seis).
(C) 48 (quarenta e oito).
(D) 72 (setenta e duas).

48. Quando o guarda municipal for sujeito à prisão antes de condenação definitiva, nos termos da Lei nº 13.022/14:

- (A) Em regra, não é assegurado ao guarda municipal o recolhimento à cela, isoladamente dos demais presos.
(B) Pode, mas não deve ser assegurado ao guarda municipal o recolhimento à cela, isoladamente dos demais presos.
(C) Nunca poderá ser assegurado ao guarda municipal o recolhimento à cela, isoladamente dos demais presos.
(D) É assegurado ao guarda municipal o recolhimento à cela, isoladamente dos demais presos.

49. Aquele que pratica a conduta típica de *"Importar, exportar, favorecer a entrada ou saída do território nacional, a qualquer título, de arma de fogo, acessório ou munição, sem autorização da autoridade competente"* incorre no crime de:

- (A) Tráfico internacional de arma de fogo.
- (B) Comércio ilegal de arma de fogo.
- (C) Comércio legal de arma de fogo.
- (D) Tráfico nacional de arma de fogo.

50. Sobre os sinais vitais, analise as afirmativas a seguir:

- I - Sinais vitais são aqueles que indicam a existência de vida, consistem em reflexos ou indícios que permitem concluir sobre o estado geral de uma pessoa.
- II - Os sinais sobre o funcionamento do corpo humano, que devem ser compreendidos e conhecidos são 6, sendo: temperatura, pulso, peso, respiração, dor e pressão arterial.
- III - A avaliação dos sinais vitais permite identificar necessidades básicas dos pacientes.
- IV - Os sinais vitais podem ser facilmente percebidos, deduzindo-se assim, que na presença deles, existem alterações nas funções vitais do corpo.

Podemos afirmar que estão corretas as alternativas:

- (A) I, II e III, apenas.
- (B) II, III e IV, apenas.
- (C) I e III, apenas.
- (D) I, II e IV, apenas.

51. Em conformidade com a Lei nº 8.069 de 1990, que dispõe sobre o Estatuto da Criança e do Adolescente, considera-se:

- (A) Criança a pessoa até doze anos de idade incompletos, e adolescente aquela entre doze e dezoito anos de idade.
- (B) Criança a pessoa até quatorze anos de idade incompletos, e adolescente aquela entre quatorze e dezoito anos de idade.
- (C) Criança a pessoa até doze anos de idade incompletos, e adolescente aquela entre doze e vinte e um anos de idade.
- (D) Criança a pessoa até quatorze anos de idade incompletos, e adolescente aquela entre quatorze e vinte e um anos de idade.

52. Em consonância com o disposto pela Lei nº 8069 de 90, Estatuto da Criança e do Adolescente, os hospitais e demais estabelecimentos de atenção à saúde de gestantes, públicos e particulares, são obrigados, exceto, a:

- (A) Identificar o recém-nascido mediante o registro de sua impressão plantar e digital e da impressão digital da mãe, sem prejuízo de outras formas normatizadas pela autoridade administrativa competente.
- (B) Manter registro das atividades desenvolvidas, através de prontuários individuais, pelo prazo máximo de dez anos.
- (C) Proceder a exames visando ao diagnóstico e terapêutica de anormalidades no metabolismo do recém-nascido, bem como prestar orientação aos pais.
- (D) Fornecer declaração de nascimento onde constem necessariamente as intercorrências do parto e do desenvolvimento do neonato.

53. Em consonância com a Lei nº 8069 de 1990, a criança e ao adolescente são previstos o direito à liberdade, ao respeito e à dignidade como pessoas humanas em processo de desenvolvimento e como sujeitos de direitos civis, humanos e sociais garantidos na Constituição e nas leis. Analise as proposições e responda.

- I. Ir, vir e estar nos logradouros públicos e espaços comunitários, ressalvadas as restrições legais.
- II. Crença e culto religioso.
- III. Brincar, praticar esportes e divertir-se.
- IV. Buscar refúgio, auxílio e orientação.

Nesse sentido, o direito à liberdade compreende, entre as proposições, apenas as indicadas pela alternativa.

- (A) I e IV. (B) II e III. (C) I, II, III e IV. (D) III e IV.

54. É definido pelo Estatuto da Criança e do Adolescente, regulados pela Lei nº 8.069 de 1990, que nenhum adolescente será privado de sua liberdade senão em flagrante de ato infracional ou por ordem escrita e fundamentada da autoridade judiciária competente. Nesse sentido, é CORRETO afirmar que a internação, antes da sentença, pode ser determinada pelo prazo máximo de:

- (A) 120 (cento e vinte) dias.
(B) 90 (noventa) dias.
(C) 60 (sessenta) dias.
(D) 45 (quarenta e cinco) dias.

55. Analise as afirmativas a seguir, tendo em vista o Estatuto Geral das guardas municipais, previsto na Lei 13.022:

- I. O uso progressivo da força é um dos princípios mínimos de atuação das guardas municipais.
- II. O Município pode criar, por lei, sua guarda municipal.
- III. O exercício das atribuições dos cargos da guarda municipal requer capacitação específica, com matriz curricular compatível com suas atividades.

Assinale a alternativa CORRETA:

- (A) Somente as afirmativas I e II estão corretas.
(B) Todas as afirmativas estão incorretas.
(C) As afirmativas I, II e III estão corretas.
(D) Somente a afirmativa II está correta.

56. A Constituição Federal de 1988, estabelece que a segurança pública, dever do Estado, direito e responsabilidade de todos, é exercida para a preservação da ordem pública e da incolumidade das pessoas e do patrimônio. Nesse sentido, assinale a alternativa INCORRETA.

- (A) A polícia rodoviária federal, órgão permanente, organizado e mantido pela União e estruturado em carreira, destina-se, na forma da lei, ao patrulhamento ostensivo das rodovias federais.
- (B) Às polícias civis, dirigidas por delegados de polícia de carreira, incumbem, ressalvada a competência da União, as funções de polícia judiciária e a apuração de infrações penais, inclusive as militares.
- (C) A polícia ferroviária federal, órgão permanente, organizado e mantido pela União e estruturado em carreira, destina-se, na forma da lei, ao patrulhamento ostensivo das ferrovias federais.
- (D) Às polícias militares cabem a polícia ostensiva e a preservação da ordem pública, aos corpos de bombeiros militares, além das atribuições definidas em lei, incumbe a execução de atividades de defesa civil.

57. O exercício exclusivo das funções de polícia judiciária da União, em consonância com o disposto pela Constituição Federal de 1988, pertence a:

- (A) Polícia Federal.
- (B) Polícia Federal e Polícia Rodoviária Federal.
- (C) Polícia Rodoviária Federal.
- (D) Polícia Civil e Polícia Rodoviária Federal.

58. Considerando a Lei 13.022 que dispõe sobre o Estatuto Geral das Guardas Municipais, em Municípios com até 50.000 (cinquenta mil) habitantes, as guardas municipais NÃO poderão ter efetivo superior a:

- (A) 0,2% (dois décimos por cento) da população.
- (B) 0,3% (três décimos por cento) da população.
- (C) 0,4% (quatro décimos por cento) da população.
- (D) 0,1% (um décimo por cento) da população.

59. "O funcionamento das guardas municipais será acompanhado por órgãos próprios, permanentes, autônomos e com atribuições de fiscalização, investigação e auditoria, mediante controle interno, exercido por corregedoria, naquelas com efetivo _____ servidores da guarda e em todas as que utilizam arma de fogo, para apurar as infrações disciplinares atribuídas aos integrantes de seu quadro."

Assinale a alternativa que completa CORRETAMENTE o trecho, em conformidade com a Lei 13.022, que dispõe sobre o Estatuto Geral das Guardas Municipais:

- (A) Inferior a 60 (sessenta).
- (B) Superior a 60 (sessenta).
- (C) Inferior a 50 (cinquenta).
- (D) Superior a 50 (cinquenta).

60. De acordo com o decreto nº 9.847 que regulamenta a Lei nº 10.826, de 22 de dezembro de 2003, para dispor sobre a aquisição, o cadastro, o registro, o porte e a comercialização de armas de fogo e de munição e sobre o Sistema Nacional de Armas e o Sistema de Gerenciamento Militar de Armas, para fins de aquisição de armas de fogo e Certificado de Registro de Arma de Fogo, o interessado deverá ter no mínimo:

- (A) 18 (dezoito) anos.
- (B) 24 (vinte e quatro) anos.
- (C) 25 (vinte e cinco) anos.
- (D) 21 (vinte e um) anos.

EM BRANCO